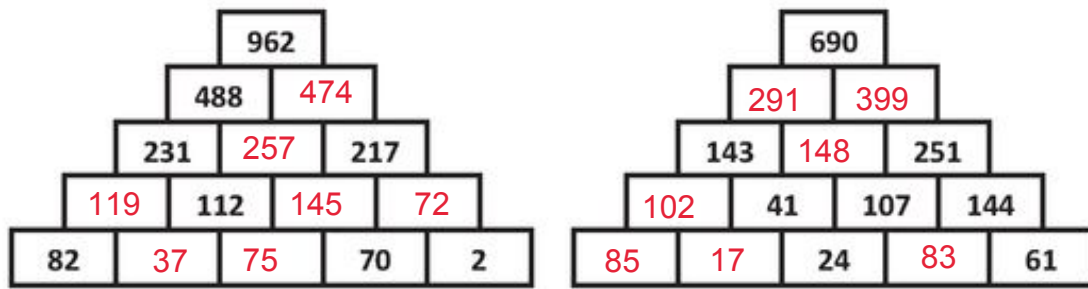
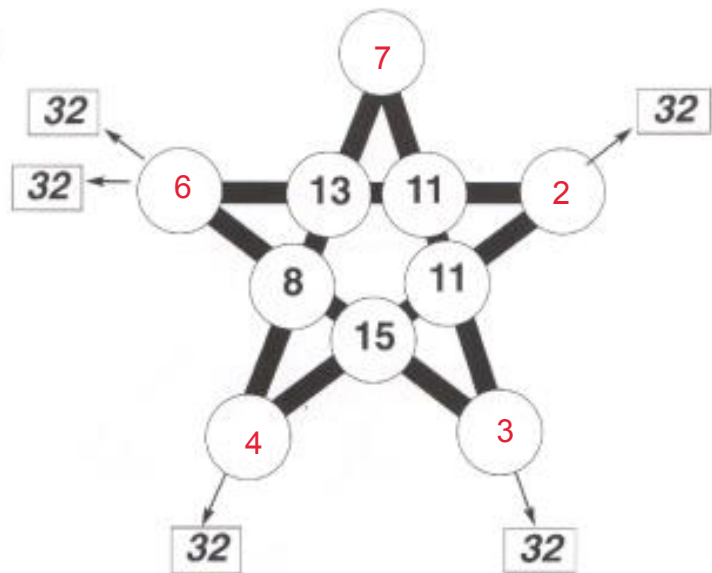


# Fiche hebdo n°21

1



2




3

Pour la fête des mères, je me rends dans un magasin de fleurs. Je voudrais acheter 12 roses, 3 tulipes et 36 jonquilles. Voici l'affiche des prix :

3 roses : 6.-

4 tulipes : 8.-

5 jonquilles : 10.-



Combien ce bouquet va-t-il me coûter ?

Phrase-réponse : Le bouquet va coûter 102.-.

Calculs :

3 roses = 6.-	3 roses x 4 = 12 roses
12 roses = 24.-	6.- x 4 = 24.-
4 tulipes = 8.-	On cherche le prix d'une tulipe: 4 tulipes x 2 = 8.-
3 tulipes = 6.-	Donc 1 tulipe coûte 2.- / alors 3 tulipes coûtent 6.-
5 jonquilles = 10.-	On cherche le prix d'une jonquille : 5 jonq. x 2 = 10.-
36 jonquilles = 72.-	Donc 1 jonquille coûte 2.- / alors 36 jonquilles x 2.- = 72.-

24.- + 6.- + 72.- = 102.-